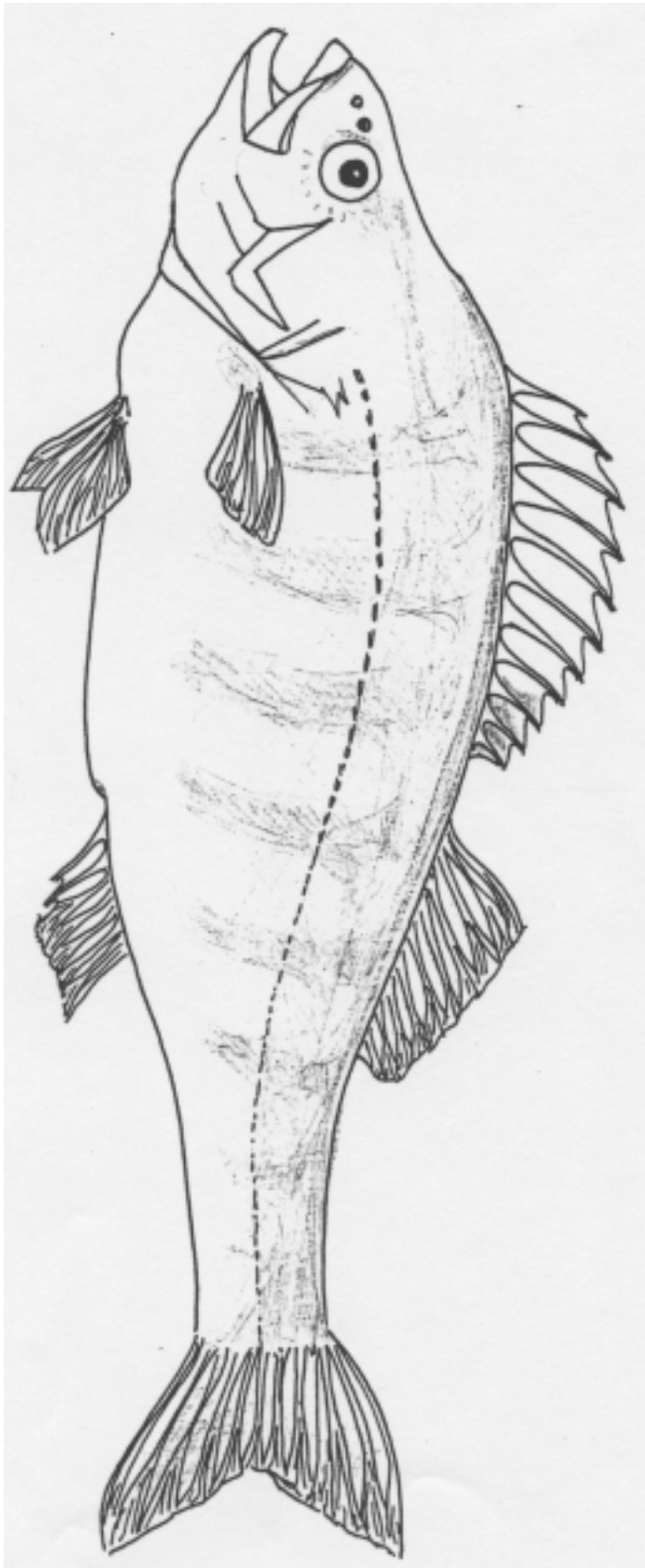


PIGFINNEFISK



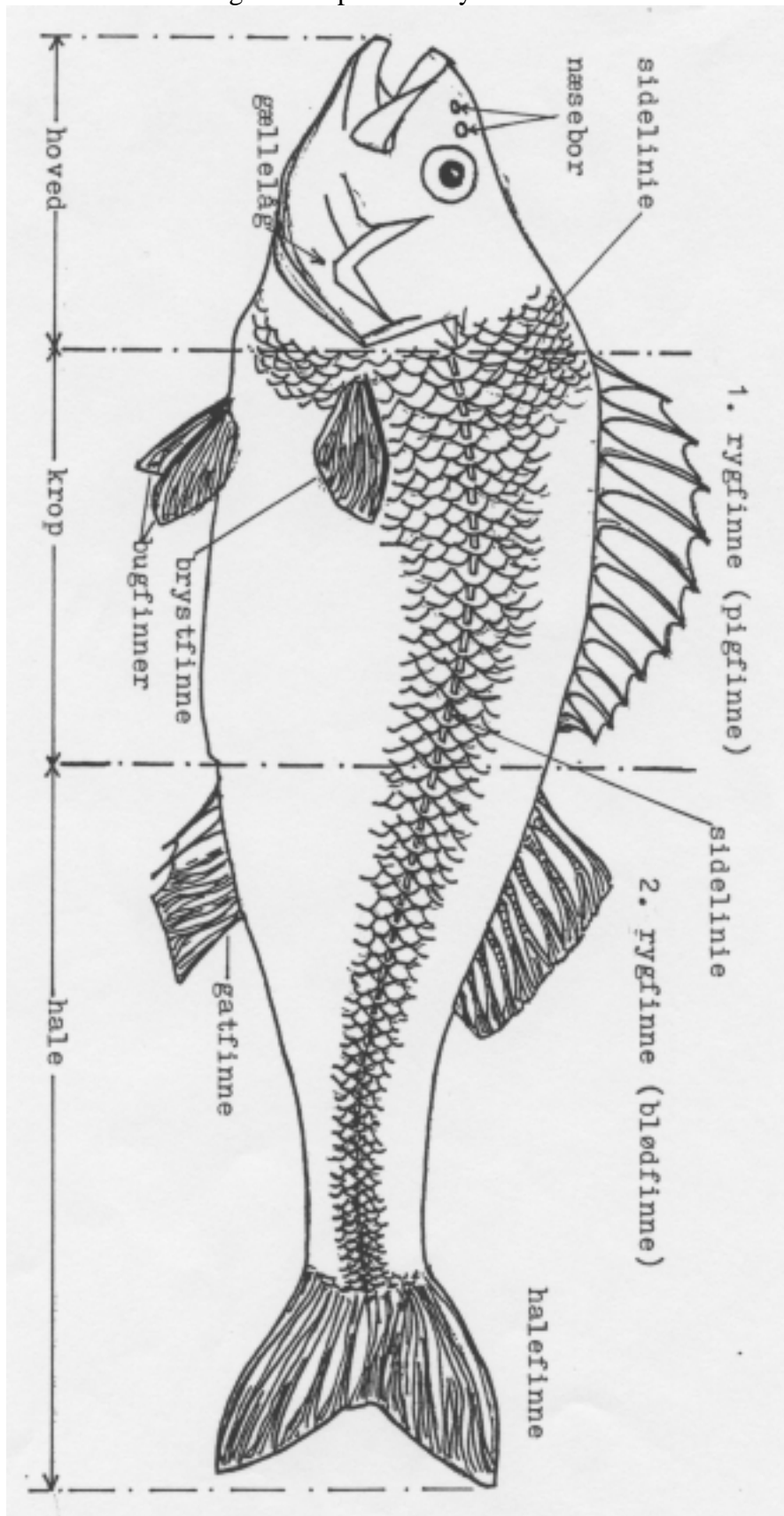
Find denne fisk i et af akvarierne!

Hvad hedder den? _____

Farvelæg den så naturligt som muligt, når du har løst de andre opgaver.

PIGFINNEFISK

Lær disse almindelige navne på fiskens ydre dele:



PIGFINNEFISK

Denne fisk findes både i brakvand (f.eks. Ringkøbing fjord) og i ferskvand.

Hvor i akvariet opholder den sig mest? (Ved bunden/blandt planterne/oppe i vandet?)

Se på dens farver! Hvor er den mørkest? _____

Hvor er den lysest? _____

Hvilke farvetegninger har den på siderne? _____

Hvilken nytte kan den have af netop de farver og farvetegninger? _____

Hvor vil det være nemt for den at gemme sig? _____

Hvorfor netop der? _____

Hvilke grunde kan den have til at gemme sig? Nævn 2! _____

Mens den er lille, lever den af f.eks.:



Når den er stor, æder den f.eks.:



Den bliver almindeligvis omkring 25 cm lang og er da 8-10 år gammel.

Hvad bevæger denne fisk – aborren - mest (hoved/krop/hale), når den svømmer?

Hvilken finne giver det bedste afsæt under svømningen? _____

Hvorfor? _____

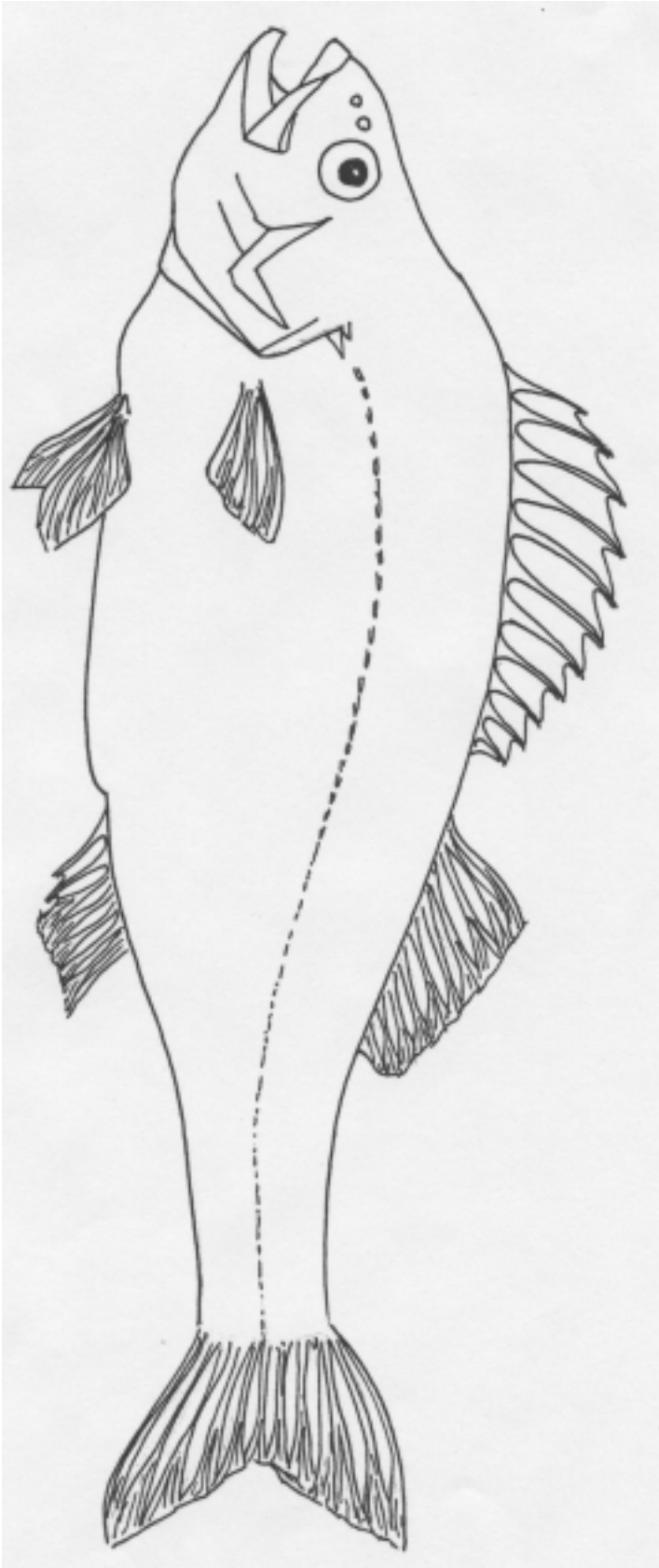
Find 3 andre fiskearter, der svømmer meget. Se nøje på dem!

Hvad bruger de til at sætte af med? _____

Hvad bruger de bug- og brystfinner til? _____

Hvilke finner bruger aborren, når den ”står stille” i vandet? _____

PIGFINNEFISK



Kan du huske, hvad de enkelte dele af fisken hedder?

Tegn en tværstreg, der skiller hoved fra krop, og én der skiller krop fra hale.

Skriv navn ved de forskellige finner:

Første rygfinne,

anden rygfinne,

halefinne,

gatfinne,

bugfinner og brystfinne.

Skriv også

næsebor,

sidelinie,

gællelåg

på de rette steder.